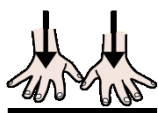


PROBLEMAS DE SUMAS Y RESTAS

I.



625

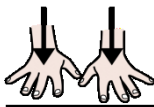


En el colegio estaban 625 niños pero....

53



53 niños han salido de excursión.



¿Cuántos niños se han quedado en el colegio?

DATOS

En el



había



Han ido de



.....



OPERACIÓN



SOLUCIÓN

En el

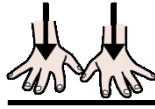


se han quedadoniños.

2.



4ºA



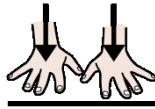
18



En la clase de 4º A hay 18 alumnos y



4ºB



19



En la clase de 4ºB hay 19 alumnos.



¿Cuántos alumnos hay en total?

DATOS

En 4ºA hay



En 4ºB hay



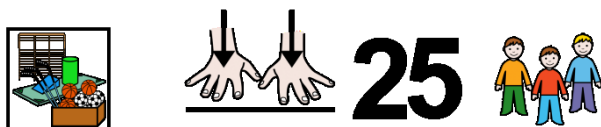
OPERACIÓN



SOLUCIÓN

En total hayalumnos.

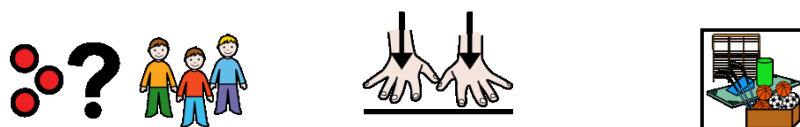
3.



En el gimnasio estaban 25 niños pero....



12 niños han salido al patio a jugar.



¿Cuántos niños se han quedado en el gimnasio?

DATOS

En el  había 

Han salido  

OPERACIÓN



SOLUCIÓN

En el gimnasio se han quedadoniños.

4.





Ana tiene 547 euros ahorrados, se gasta 225 € en un teléfono.



¿Cuánto dinero le queda?

DATOS

Tiene  €

Se gasta  €

OPERACIÓN



SOLUCIÓN

Le quedaneuros.

5.



1.234 puntos



Pedro ha conseguido 1.234 puntos jugando a la consola y



2.345 puntos

María ha conseguido 2.345 puntos.



puntos



y



¿Cuánto puntos han conseguido en total?

DATOS



..... puntos



..... puntos

OPERACIÓN



SOLUCIÓN

En total tienenpuntos.

6.



1.234 puntos



Pedro ha conseguido 1.234 puntos jugando a la consola y



2.345 puntos

María ha conseguido 2.345 puntos.



puntos



y



¿Cuántos puntos menos que María tiene Pedro ?

DATOS



..... puntos



..... puntos

OPERACIÓN



SOLUCIÓN

Pedro tienepuntos menos que María.


7.



Pedro tiene un álbum de 145 cromos,

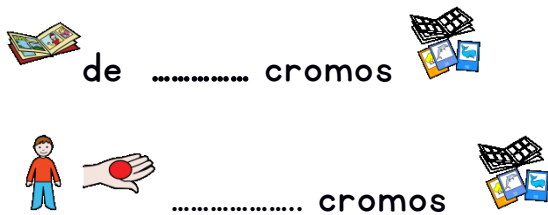


Tiene 78 cromos.



¿Cuántos cromos necesita para terminar el álbum?

DATOS



OPERACIÓN



SOLUCIÓN

Necesitacromos.

8.



5 kg



3 kg



Pedro ha comprado 5 kg de naranjas, 3 kilos de manzanas y

4 kg



4 kilos de peras.



kg



¿Cuántos kilos de fruta ha comprado en total ?

DATOS



..... kg



..... kg



..... kg

OPERACIÓN



SOLUCIÓN

Ha compradokg de fruta.



9.



Ana tiene un libro de 456 páginas




Ha leído 345 páginas.



¿Cuántos le quedan por leer para terminarlo?

DATOS

 de páginas

 páginas

OPERACIÓN



SOLUCIÓN

Le faltanpáginas para terminar el libro

10.



Ana y Pedro quieren comprarse un parchís de 25 euros.



Ana tiene 12 euros y Pedro tiene 10 euros.




¿Tienen entre los dos dinero para comprarlo? SI NO



¿Cuántos dinero necesitan ?

DATOS



OPERACIÓN



SOLUCIÓN

Les faltan.....€.

II.



5



Berta, Claudia y Elena tienen cada una 5 cuadernos.



¿Cuántos cuadernos tienen en total?

DATOS



.....



.....



.....



OPERACIÓN





*hay dos formas de resolverlo.

SOLUCIÓN

Tienen  .

12.



Berta tiene en la hucha 124 euros y su hermano Mario tiene 103 .



Se gastan 96 euros en ropa.



¿Cuánto dinero les queda ?

DATOS



OPERACIÓN



Les queda..... €.

