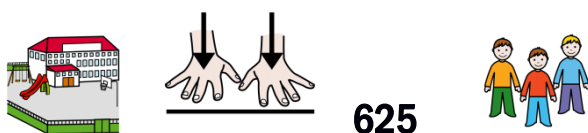


# PROBLEMAS COM SOMAS E SUBTRAÇÕES

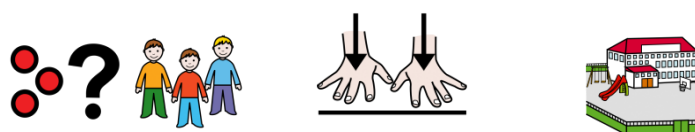
1.



Na escola estavam 625 crianças mas ....



53 crianças saíram numa excursão .




Quantas crianças ficaram na escola?

## DADOS



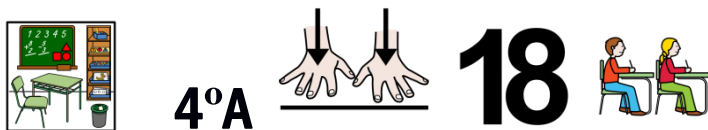
## OPERAÇÃO



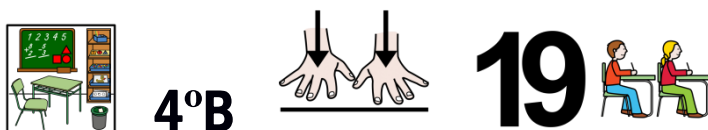
## SOLUÇÃO



2.



Na Turma do 4ºA há 18 alunos e



na Turma do 4ºB há 19 alunos.



Quantos alunos há nas duas turmas?

**DADOS**

4ºA há .....

4ºB há .....

**OPERAÇÃO**

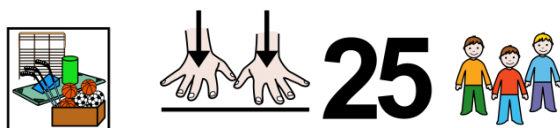


\_\_\_\_\_

**SOLUÇÃO**

No total há .....alunos.

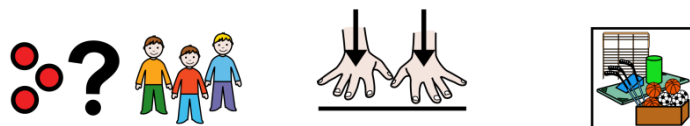
3.



No ginásio estavam 25 crianças mas ...



12 crianças saíram para o recreio jogar.



Quantas crianças ficaram no ginásio?

**DADOS**



havia .....



**Sairam**



.....



**OPERAÇÃO**



\_\_\_\_\_

**SOLUÇÃO**

No ginásio ficaram .....crianças.

4.





A Ana tinha 574 euros guardados, gastou 225 € num telemóvel.



Com quanto dinheiro ficou?

**DADOS**

Tinha  ..... €

Gastou  ..... €

**OPERAÇÃO**



\_\_\_\_\_

**SOLUÇÃO**

Ficou com .....euros.

5.



1.234 pontos



O Pedro conseguiu 1.234 pontos a jogar consola



2.345 pontos

A Maria conseguiu 2.345 pontos.



pontos



e



Quantos pontos conseguiram, os dois, no total?

**DADOS**



..... pontos



..... pontos

**OPERAÇÃO**



\_\_\_\_\_

**SOLUÇÃO**

No total conseguiram .....pontos.

6.



1.234 pontos



O Pedro conseguiu 1.234 pontos a jogar consola



2.345 pontos

A Maria conseguiu 2.345 pontos.



pontos



e



Quantos pontos tem o Pedro a menos que a Maria?

### DADOS



..... pontos



..... pontos

### OPERAÇÃO



\_\_\_\_\_

### SOLUÇÃO

O Pedro tem menos .....pontos que a Maria.

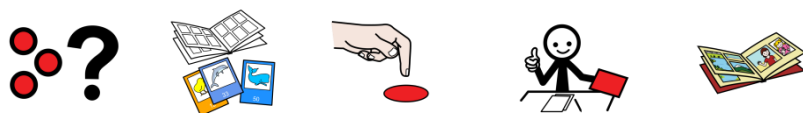
7.



O Pedro tem um álbum de 145 cromos,



Já tem 78 cromos.



Quantos cromos necessita para terminar o álbum?

**DADOS**



**OPERAÇÃO**



\_\_\_\_\_

**SOLUÇÃO**

**Necessita .....cromos para terminar o álbum.**

8.



5 kg



3 kg



O Pedro comprou 5 kg de laranjas, 3 kg de maçãs e

4 kg



4 kg de pêras.



kg



Quantos quilos de fruta comprou no total?

### DADOS



..... kg



..... kg



..... kg

### OPERAÇÃO



\_\_\_\_\_

### SOLUÇÃO

No total, comprou.....kg de fruta.



9.



A Ana tem de ler um livro de 456 páginas.



Já leu 345 páginas.



Quantas páginas lhe faltam para terminar?

**DADOS**

 de..... páginas

 ..... páginas

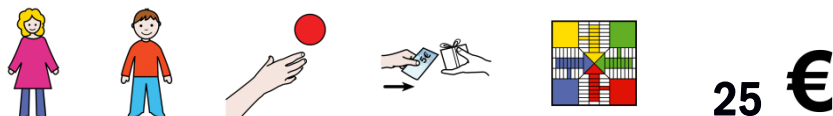
**OPERAÇÃO**



**SOLUÇÃO**

Faltam-lhe .....páginas para terminar o livro.

10.



A Ana e o Pedro querem comprar um jogo por 25 euros.



A Ana tem 12 euros e o Pedro tem 10 euros.



Entre os dois têm dinheiro para comprar o jogo ? **SIM** **NÃO**



Quanto dinheiro necessitam\_?

**DADOS**



**OPERAÇÃO**



**SOLUÇÃO**

Falta-lhes ..... €.

11.



A Berta, a Cláudia e a Helena têm, cada uma, 5 cadernos.

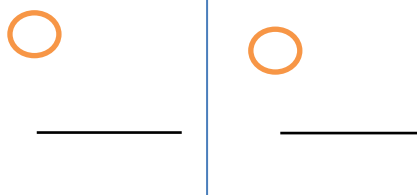


Quantos cadernos têm no total?

### DADOS



### OPERAÇÃO



\*há duas formas de resolver.

### SOLUÇÃO

Têm .....  .

# 12.



A Berta tem no mealheiro 124 euros e o irmão Mário tem 103.



Se gastarem 96 euros em roupa.



Com quanto dinheiro ficam?

**DADOS**



**OPERAÇÃO**



**Resta-lhes ..... €.**