




# EGUTEGIA

ezagutzen






## 4 URTARO DAUDE



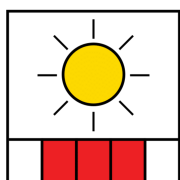
### NEGUA

Hotz egiten du.




### UDABERRIA

Loreak hazten dira.



### UDA

Eguraldi ona egiten du.



### UDAZKENA

Hostoak erortzen dira.





# ASTE BATEK 7 EGUN DITU

L M X J V S D

1

Astelehena



2

Asteartea



3

Asteazkena



4

Osteguna



5

Ostirala




6

Larunbata



7

Igandea





# ASTE BATEK 7 EGUN DITU

L M X J V S D

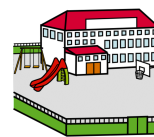
1



2



3



4



5

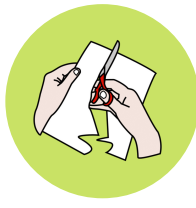


6



7





# ASTE BATEK 7 EGUN DITU

L M X J V S D

Ostirala

Asteazkena

Larunbata

Osteguna

Igandea

Astelehena

Asteartea






# ASTE BATEK 7 EGUN DITU

L M X J V S D

## ASTE BARRUA



## ASTEBURUA



# ASTE BATEK 7 EGUN DITU



L M X J V S D

ASTELEHENA

ASTEARTEA

ASTEAZKENA

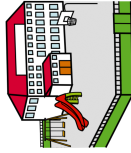
OSTEGUNA

OSTIRALA

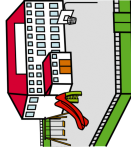
LARUNBATA

IGANDEA

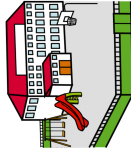
1



2



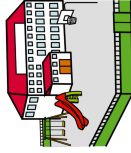
3



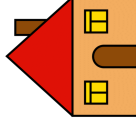
4



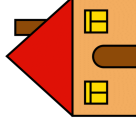
5



6



7



ZENBAT EGUN



— egun  
esholan.

ZENBAT EGUN



— egun  
etxean.



# ASTE BATEK 7 EGUN DITU



L M X J V S D

ASTELEHENA

ASTEARTEA



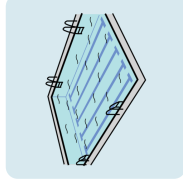

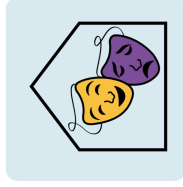
ASTEAZKENA

OSTEGUNA

OSTIRALA

LARUNBATA

IGANDEA



ZEIN ASTE EGUNETAN EGITEN DITU EKINTZA HAUEK?

IGERILEKURA JOAN -----

PARKERA JOAN -----

ZINEMARA JOAN -----

ANTZERKIA IKUSI -----

FUTBOLERA JOKATU -----



# ASTE BATEK 7 EGUN DITU



L M X J V S D

ASTELEHENA    ASTEARTEA    ASTEAZKENA    OSTEguna    OSTIRALA    LARUNBATA    IGANDEA

L J X J V S D

L M X J V S D

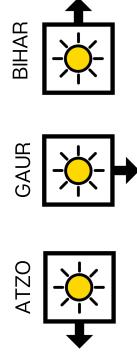
L M X J V S D

L M X J V S D

L M X J V S D

L M X J V S D

L M X J V S D



GAUR    osteguna bada, ATZO    \_\_\_\_\_ izan zen eta BIHAR    \_\_\_\_\_ izango da.

GAUR    larunbata bada, ATZO    \_\_\_\_\_ izan zen eta BIHAR    \_\_\_\_\_ izango da.

GAUR    asteartea bada, ATZO    \_\_\_\_\_ izan zen eta BIHAR    \_\_\_\_\_ izango da.








GAUR    igandea bada, ATZO    \_\_\_\_\_ izan zen eta BIHAR    \_\_\_\_\_ izango da.












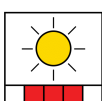
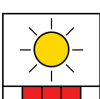
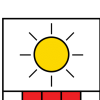
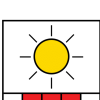




# 12 HILABETE DAUDE


L M X J V S D

1	Urtarrila		
2	Otsaila		
3	Martxoa		BUKATU ETA  HASI
4	Apirila		
5	Maiatza		
6	Ekaina		BUKATU ETA  HASI
7	Uztaila		
8	Abuztua		
9	Iraila		BUKATU ETA  HASI
10	Urria		
11	Azaroa		
12	Abendua		



# 12 HILABETE DAUDE

1			
2			
3		 BUKATU ETA  HASI	
4			
5			
6		 BUKATU ETA  HASI	
7			
8			
9		 BUKATU ETA  HASI	
10			
11			
12			



# 12 HILABETE DAUDE

L M X J V S D

ABUZTUA

URRIA

EKAINA

MARTXOA

AZAROA

ABENDUA

IRAILA

APIRILA

OTSAILA

MAIATZA

URTARRILA

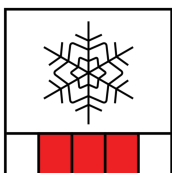
UZTAILA








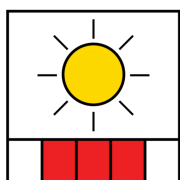
# 12 HILABETE DAUDE




NEGUA

UDABARRIA

UDA

UDAZKENA




## 12 HILABETE DAUDE

AURREKOA

HILABETE HAU

HURRENGOA

URTARRILA

OTSAILA

MARTXOA

APIRILA

MAIATZA

EKAINA

UZTAILA

ABUZTUA

IRAILA

URRIA

AZAROA

ABENDUA



# ARROTZ



## URTAROAK

Udazhena

Urtarrila

Udaberria

Negua

Uda

Astelehena



## HILABETEA

Uztaila

Maiatza

Astelehena

Igandea

Ekaina

Abuztua

L M X J V S D

## ASTEA

Asteartea

Iraila

Igandea

Asteazhena


Astelehena

Larunbata





# IRAILA



ASTELEHNA ASTEARTEA ASTEAZKENA OSTEGUNA OSTIRALA

LARUNBATA IGANDEA

		1	2	3	4	5
6	7	8	9	10	11	12
13	14	15	16	17	18	19
20	21	22	23	24	25	26
27	28	29	30			

ZEIN ASTEKO EGUN DA?

L M X J V S D

Irailak 1 \_\_\_\_\_ da.


Irailak 15 \_\_\_\_\_ da.

Irailak 18 \_\_\_\_\_ da.

Irailak 20 \_\_\_\_\_ da.



# IRAILA



ASTELEHNA ASTEARTEA ASTEAZKENA OSTEGUNA OSTIRALA LARUNBATA IGANDEA

		1	2	3	4	5
6	7	8	9	10	11	12
13	14	15	16	17	18	19
20	21	22	23	24	25	26
27	28	29	30			

## IKUSI EGUTEGIA



Zein hilabete da? \_\_\_\_\_


Zenbat egun ditu? \_\_\_\_\_

Zein asteko egunetan hasten da hilabetea? \_\_\_\_\_

Zein asteko egunetan bukatzen da hilabetea? \_\_\_\_\_



# URRIA



ASTELEHNA ASTEARTEA ASTEAZKENA OSTEGUNA OSTIRALA LARUNBATA IGANDEA

				1	2	3
4	5	6	7	8	9	10
11	12	13	14	15	16	17
18	19	20	21	22	23	24
25	26	27	28	29	30	31

EGIA ALA GEZURRA ?

Urria da \_\_\_\_\_

Urriak 31 egun ditu \_\_\_\_\_


Urria Ostegunean hasten da \_\_\_\_\_

Urria Igandean amaitzen da \_\_\_\_\_





# ABENDUA



ASTELEHNA

ASTEARTEA



ASTEAZKENA

OSTEGUNA

OSTIRALA

LARUNBATA

IGANDEA



1

2

3

4

5

6

7

8

9

10

11

12

13

14

15

16

17

18

19

20

21

22

23

24

25

26



27

28

29

30

31



IRAKURRI, EBAKI ETA ITSATSI

Abenduaren 6 eta 7an etxean.

Abenduaren 8an zuhaitza jarri.

Abenduaren 23an antzerkia ikusi.

Abenduaren 27tik 31ra etxean.

