



NOMBRE: _____



1 2 3

ESCRIBE EL NÚMERO:

CUATRO		TRECE		DIECIOCHO	
QUINCE		ONCE		SEIS	
DIECISÉIS		CATORCE		CERO	
DIEZ		DOCE		DIECISIETE	




COMPLETA:

0	1			4			7
	9				13		
16				20			





FECHA: _____

- AUTOR PICTOGRAMAS: Sergio Palau PROCEDENCIA: ARASAAC (<http://arasaac.org>) LICENCIA: CC (BY-NC-SA) PROPIEDAD: Gobierno de Aragón
- Vanessa González Serrano CEIP Pilar Izquierdo (Híjar)

NOMBRE: _____



CUENTA:



SUMA:

$$\begin{array}{r} 7 \\ + 2 \\ \hline \end{array}$$


$$\begin{array}{r} 5 \\ + 6 \\ \hline \end{array}$$

$$\begin{array}{r} 8 \\ + 3 \\ \hline \end{array}$$

$$\begin{array}{r} 6 \\ + 4 \\ \hline \end{array}$$

FECHA: _____

NOMBRE: _____



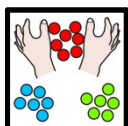


COMPLETA:

0			3					8	
---	--	--	---	--	--	--	--	---	--

	11							19	
--	----	--	--	--	--	--	--	----	--



RODEA DE 3 EN 3:




¿CUÁNTOS GRUPOS HAY?

--


FECHA: _____

NOMBRE: _____



ESCRIBE DEL 0 AL 20:

0									
									20





1 2 3

PEGA EL NÚMERO DE PEGATINAS QUE SE INDICA:

	11		8
	9		10
	1		12

FECHA: _____

NOMBRE: _____



ESCRIBE EL NÚMERO QUE VA DETRÁS:

8 →

13 →

10 →

11 →

5 →

3 →

6 →

0 →

19 →

16 →

17 →

1 →




SUMA:

$\begin{array}{r} 4 \\ + 5 \\ \hline \end{array}$	$\begin{array}{r} 7 \\ + 6 \\ \hline \end{array}$	$\begin{array}{r} 5 \\ + 2 \\ \hline \end{array}$	$\begin{array}{r} 6 \\ + 5 \\ \hline \end{array}$
<input type="text"/>	<input type="text"/>	<input type="text"/>	<input type="text"/>

FECHA: _____

NOMBRE: _____



1 2 3

ESCRIBE EL NÚMERO:

DOS

VEINTE

SIETE

NUEVE

DIECINUEVE

TRES

ONCE

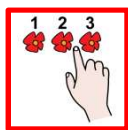
QUINCE

UNO

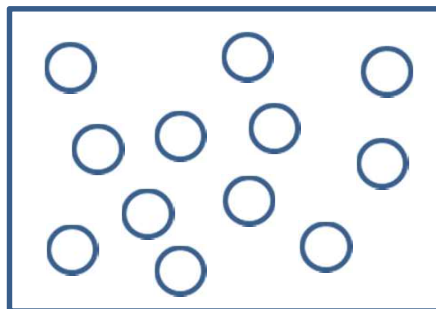
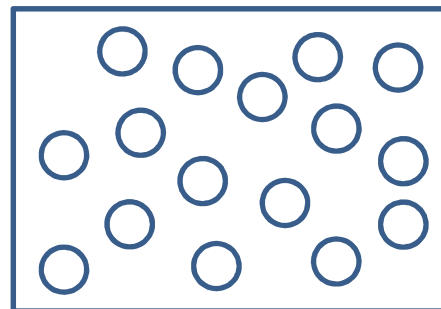
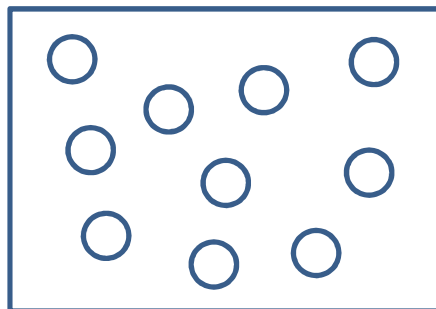
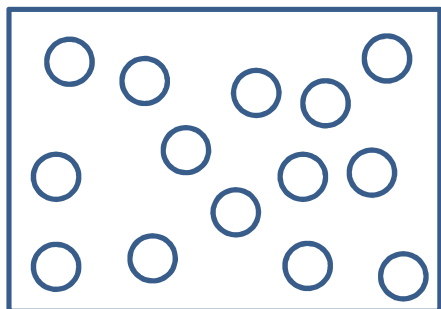
OCHO

TRECE

DIECISÉIS



CUENTA:



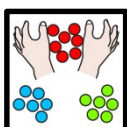


FECHA: _____

- AUTOR PICTOGRAMAS: Sergio Palau PROCEDENCIA: ARASAAC (<http://arasaac.org>) LICENCIA: CC (BY-NC-SA) PROPIEDAD: Gobierno de Aragón
- Vanessa González Serrano CEIP Pilar Izquierdo (Híjar)


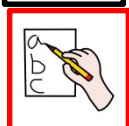
NOMBRE: _____



RODEA DE 4 EN 4:



¿CUÁNTOS GRUPOS HAY?



ESCRIBE EL NÚMERO QUE VA DETRÁS:

7	→	<input type="text"/>
---	---	----------------------

14	→	<input type="text"/>
----	---	----------------------

10	→	<input type="text"/>
----	---	----------------------

18	→	<input type="text"/>
----	---	----------------------

4	→	<input type="text"/>
---	---	----------------------

2	→	<input type="text"/>
---	---	----------------------

9	→	<input type="text"/>
---	---	----------------------

0	→	<input type="text"/>
---	---	----------------------

19	→	<input type="text"/>
----	---	----------------------


16	→	<input type="text"/>
----	---	----------------------

15	→	<input type="text"/>
----	---	----------------------

1	→	<input type="text"/>
---	---	----------------------


FECHA: _____

NOMBRE: _____



COMPLETA:

0						6	
				12			
	17			20			



1 2 3

PEGA EL NÚMERO DE PEGATINAS QUE SE INDICA:

	11		8
	9		10
	1		12

FECHA: _____

- AUTOR PICTOGRAMAS: Sergio Palau PROCEDENCIA: ARASAAC (<http://arasaac.org>) LICENCIA: CC (BY-NC-SA) PROPIEDAD: Gobierno de Aragón
- Vanessa González Serrano CEIP Pilar Izquierdo (Híjar)

NOMBRE: _____

$$\begin{array}{r} +8 \\ \underline{2} \end{array}$$

SUMA:

$$\begin{array}{r} 3 \\ + 4 \square \\ \hline \square \end{array}$$

$$\begin{array}{r} 7 \\ + 4 \\ \hline \end{array}$$

$$\begin{array}{r} 6 \\ + 3 \\ \hline \end{array}$$

$$\begin{array}{r} 8 \\ + 5 \\ \hline \end{array}$$

$$\begin{array}{r} 6 \\ + 5 \square \\ \hline \square \end{array}$$

$$\begin{array}{r} 7 \\ + 3 \\ \hline \end{array}$$

$$\begin{array}{r} 2 \\ + 5 \\ \hline \end{array}$$

$$\begin{array}{r} 9 \\ + 6 \\ \hline \end{array}$$