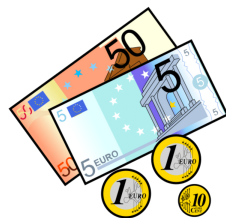




DINERO





EL DINERO SIRVE PARA COMPRAR LO QUE NECESITEMOS O QUERAMOS.





LO QUE SE PUEDE COMPRAR



OBJETOS



CASAS



COMIDA



ENTRADAS



LO QUE NO SE PUEDE COMPRAR

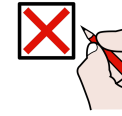


AMIGOS



AMOR

Ejercicio: Tacha lo que se pueda comprar



Jersey

☐

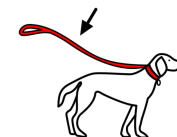
Gafas

☐

Perro

☐

Abrazo

☐

Correa

☐

Ejercicio: Tacha lo que se puede comprar

☐

Cuerda

☐

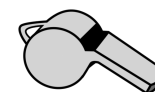
Pelota

☐

colchoneta

☐

zapatillas

☐

Silbato

EL DINERO SE GANA TRABAJANDO O PRESTANDO UN SERVICIO




El peluquero recibirá
dinero por el servicio
realizado.

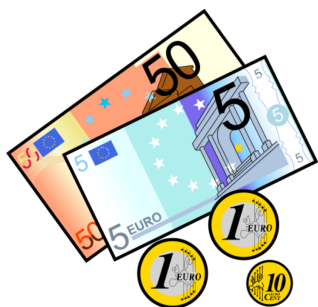


El cliente dará dinero
por el servicio recibido.



Ejercicio: Redondea de **azul** quién recibirá dinero.
Redondea de **naranja** quién dará dinero.






EL EURO

Es la moneda de la UNIÓN EUROPEA



Ejercicio: Colorea los países donde se utilice el EURO



ESTE ES EL DINERO QUE UTILIZAMOS

Las MONEDAS de Euro:

CÉNTIMOS



1 céntimo



2 céntimos



5 céntimos



10 céntimos



20 céntimos



50 céntimos

EUROS



1 euro



2 euros



1 EURO = 100 centimos

Los BILLETES de Euro:



5 euros



10 euros



20 euros



50 euros



100 euros



200 euros



500 euros


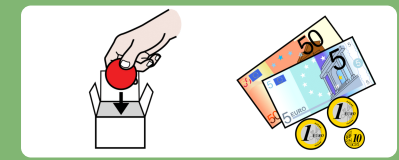
ALGUNAS FORMAS DE AGRUPAR 1 EURO



1 EURO = 100 *céntimos*



Ejercicio: Guarda las monedas de euro en el monedero y los billetes en la billetera.

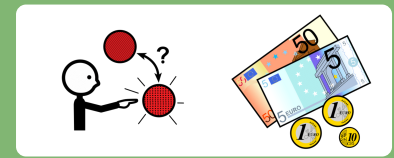


MONEDERO



BILLETERA

Ejercicio: ¿Son céntimos o Euros?

☐

Céntimo

☐

Euro

☐

Céntimo

☐

Euro

☐

Céntimo

☐

Euro

☐

Céntimo

☐

Euro

☐

Céntimo

☐

Euro

☐

Céntimo

☐

Euro

☐

Céntimo

☐

Euro

☐

Céntimo

☐

Euro

☐

Céntimo

☐

Euro

☐

Céntimo

☐

Euro

☐

Céntimo

☐

Euro


☐

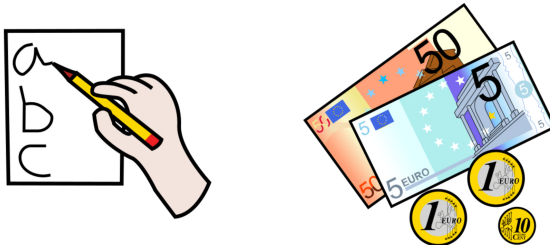
Céntimo

☐

Euro

Ejercicio: Agrupa los céntimos hasta conseguir 1 EURO





PARA ESCRIBIR EL DINERO SEPARAMOS LOS EUROS Y LOS CÉNTIMOS:



=

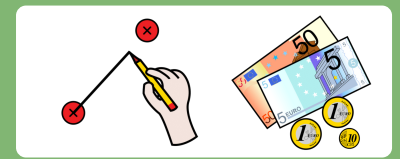
2 , 10 € = 2 euros y 10 céntimos

euros Céntimos €

↓ ↓

Separamos Símbolo

Ejercicio: ¿Cuánto dinero hay? Une.



● 0,50 €



● 5,00 €



● 0,05 €

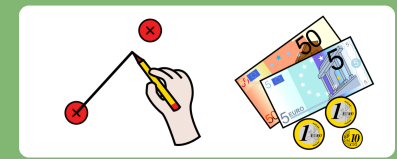


● 1,50 €



● 10,00 €

Ejercicio: ¿Cuánto dinero hay? Une.



● 0,30 €



● 30,00 €



● 0,55 €

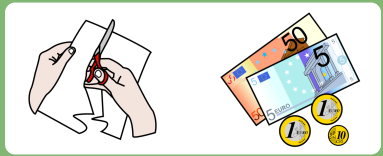


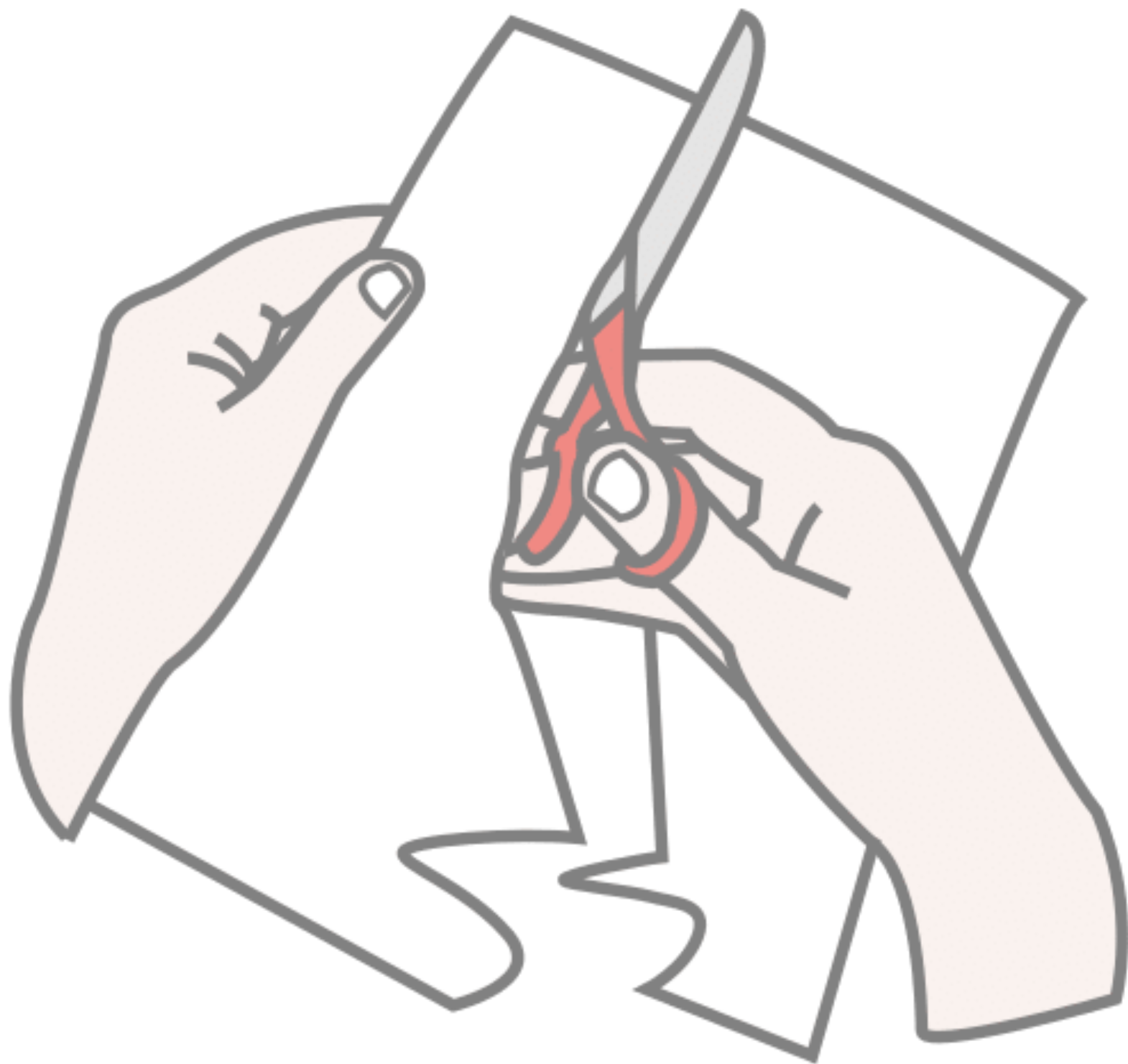
● 3,00 €



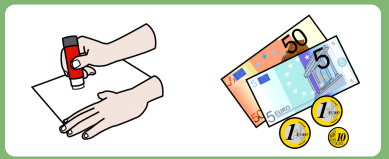
● 6,50 €

Ejercicio: ¿Cuánto dinero tiene? Córtalo.





Ejercicio: ¿Cuánto dinero tiene? Pégalo.



Ejercicio: ¿Cuánto dinero tiene?



__ , __ €



__ , __ €



__ , __ €



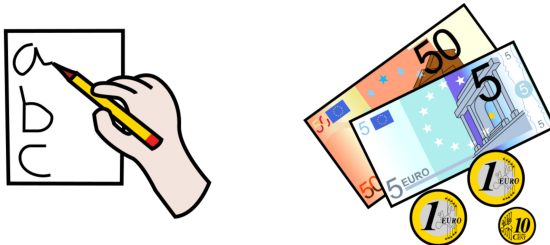
__ , __ €



__ , __ €



__ , __ €



PARA PODER COMPRAR ALGO SE NECESITA IGUAL O MÁS CANTIDAD DE DINERO



puede comprarlo




puede comprarlo



No puede comprarlo

Ejercicio: Compra los juguetes que cuesten menos de 5 EUROS.





Ane tiene 5,00€



Ejercicio: ¿Puedo comprarlo?




TENGO



PRECIO



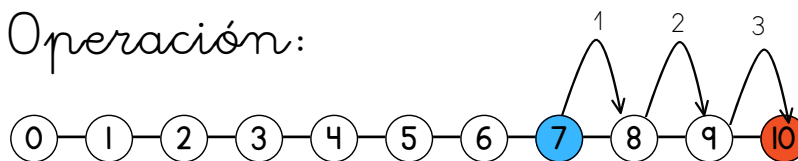
¿PUEDO COMPRARLO? SI O NO



SI DOY MÁS DINERO AL CAJERO, EL TENDRÁ QUE DEVOLVERME DINERO:



Operación:



le devolverán: 3€

Teo le da 10 euros al cajero.

La revista cuesta 7 euros.

Ejercicio: ¿Cuánto dinero le devolverán?



Operación:

0—1—2—3—4—5—6—7—8—9—10

le devolverán:



Operación:

0—1—2—3—4—5—6—7—8—9—10


le devolverán:



Operación:

0—1—2—3—4—5—6—7—8—9—10

le devolverán:



Operación:

0—1—2—3—4—5—6—7—8—9—10

le devolverán:

