



# LAS MÁQUINAS Y HERRAMIENTAS

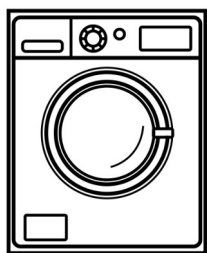


LAS MÁQUINAS Y HERRAMIENTAS NOS AYUDAN A HACER EL TRABAJO MÁS FÁCILMENTE.


Escribe



Con unas \_\_\_\_\_ puedo \_\_\_\_\_ con más facilidad.




Con una \_\_\_\_\_ puedo \_\_\_\_\_ con más facilidad.




Con una \_\_\_\_\_ puedo \_\_\_\_\_ con más facilidad.


# LAS MÁQUINAS Y HERRAMIENTAS



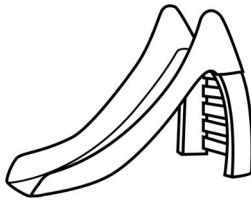
Escribe el nombre de estas máquinas y herramientas que se utilizan en el colegio y para qué sirven:



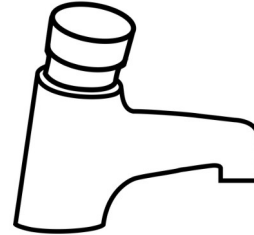
Las \_\_\_\_\_ sirven para \_\_\_\_\_



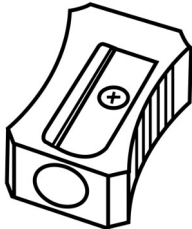
La \_\_\_\_\_ sirve para \_\_\_\_\_




El \_\_\_\_\_ sirve para \_\_\_\_\_



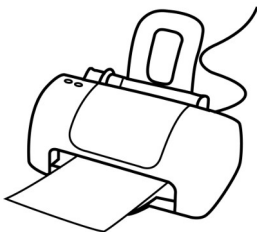
El \_\_\_\_\_ sirve para \_\_\_\_\_



El \_\_\_\_\_ sirve para \_\_\_\_\_



El \_\_\_\_\_ sirve para \_\_\_\_\_




La \_\_\_\_\_ sirve para \_\_\_\_\_




El \_\_\_\_\_ sirve para \_\_\_\_\_


# LAS MÁQUINAS Y HERRAMIENTAS



ALGUNAS MÁQUINAS Y HERRAMIENTAS FUNCIONAN CON LA FUERZA QUE HACEMOS LAS PERSONAS.




Escribe el nombre de estas máquinas que utilizan la fuerza de las personas y escribe para qué sirven:



El \_\_\_\_\_ sirve para \_\_\_\_\_



La \_\_\_\_\_ sirve para \_\_\_\_\_



El \_\_\_\_\_ sirve para \_\_\_\_\_



La \_\_\_\_\_ sirve para \_\_\_\_\_

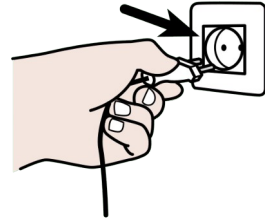
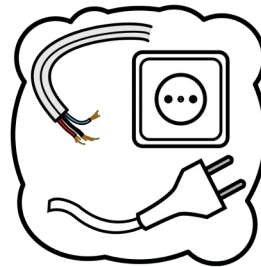


La \_\_\_\_\_ sirve para \_\_\_\_\_




El \_\_\_\_\_ sirve para \_\_\_\_\_

# LAS MÁQUINAS Y HERRAMIENTAS



ALGUNAS MÁQUINAS Y HERRAMIENTAS FUNCIONAN CON ELECTRICIDAD. HAY QUE ENCHUFARLAS.




Escribe el nombre de estas máquinas que funcionan con electricidad (se enchufan) y escribe para qué sirven:



La \_\_\_\_\_ sirve para \_\_\_\_\_




El \_\_\_\_\_ sirve para \_\_\_\_\_



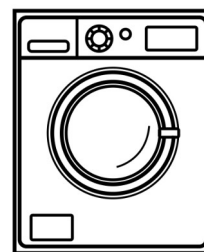
El \_\_\_\_\_ sirve para \_\_\_\_\_



El \_\_\_\_\_ sirve para \_\_\_\_\_




El \_\_\_\_\_ sirve para \_\_\_\_\_




La \_\_\_\_\_ sirve para \_\_\_\_\_

# LAS MÁQUINAS Y HERRAMIENTAS




OTRAS MÁQUINAS Y HERRAMIENTAS FUNCIONAN CON GASOLINA.




Escribe el nombre de estos medios de transporte que utilizan gasolina para funcionar:



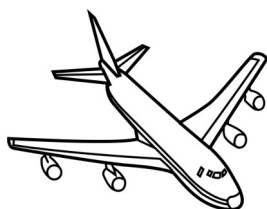
\_\_\_\_\_



\_\_\_\_\_




\_\_\_\_\_



\_\_\_\_\_



\_\_\_\_\_



\_\_\_\_\_

¿Cuáles van  
por la tierra?

\_\_\_\_\_  
\_\_\_\_\_  
\_\_\_\_\_

¿Cuáles van  
por el mar?

\_\_\_\_\_

¿Cuáles  
van por el aire?

\_\_\_\_\_  
\_\_\_\_\_