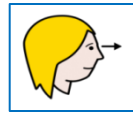



الاسم و اللقب : \_\_\_\_\_ : القسم : \_\_\_\_\_

اليوم : \_\_\_\_\_

المادة : \_\_\_\_\_ الموضوع : \_\_\_\_\_

\_\_\_\_\_




أَتَعَلَّمُ

الضرب  
(1)



1

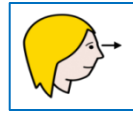


الاسم و اللقب : \_\_\_\_\_ : القسم : \_\_\_\_\_

اليوم : \_\_\_\_\_

المادة : \_\_\_\_\_ الموضوع : \_\_\_\_\_

\_\_\_\_\_




أَتَعَلَّمُ




الضَّرْبُ

(1)



\_\_\_\_\_

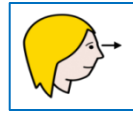


الاسم و اللقب : \_\_\_\_\_ القسم : \_\_\_\_\_



اليوم : \_\_\_\_\_

المادة : \_\_\_\_\_ الموضوع : \_\_\_\_\_

\_\_\_\_\_



أحسب

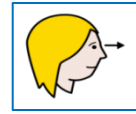


المطلوب

أحسب مجموع المربعات في كلّ حالة و أكتبهم على شكل جداء.

\_\_\_\_\_ × \_\_\_\_\_ = \_\_\_\_\_

# الضرب (2)



أحسب



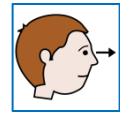
	-----	-----	-----
-----		-----	-----
-----		-----	-----
-----		-----	-----

الاسم و اللقب : \_\_\_\_\_ : القسم : \_\_\_\_\_

اليوم : \_\_\_\_\_

المادة : \_\_\_\_\_ : الموضوع : \_\_\_\_\_

\_\_\_\_\_

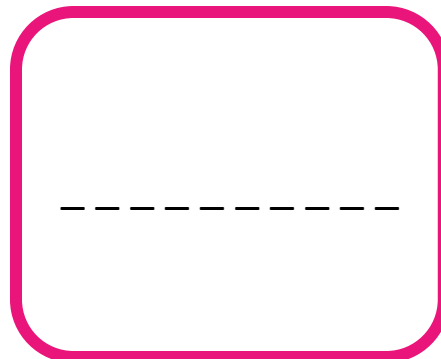


أَتَعَلَّمُ

الضرب ×  
(1)



1

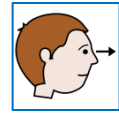


الاسم و اللقب : \_\_\_\_\_ : القسم : \_\_\_\_\_

اليوم : \_\_\_\_\_


المادة : \_\_\_\_\_ الموضوع : \_\_\_\_\_

\_\_\_\_\_




أَتَعَلَّمُ

الضَّرْبُ  
(1)



\_\_\_\_\_


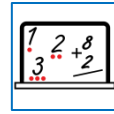
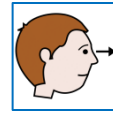


الاسم و اللقب : \_\_\_\_\_ القسم : \_\_\_\_\_



اليوم : \_\_\_\_\_

المادة : \_\_\_\_\_ الموضوع : \_\_\_\_\_

\_\_\_\_\_



أحسب

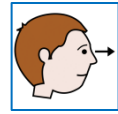


المَطْلُوب

أَحْسُب مَجْمُوع المُرَبَّعات فِي كُلِّ حَالَةٍ وَ أَكْتُبُهُمْ عَلَى شَكْلِ جِداء.

\_\_\_\_\_ × \_\_\_\_\_ = \_\_\_\_\_

# الضرب (2)



أحسب

