
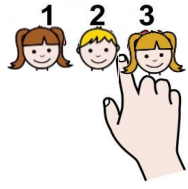


CONTAR,
¿CUÁNTOS NIÑOS Y NIÑAS HAY?




Cuenta y rodea el número

CONTAR, ¿CUÁNTOS NIÑOS Y NIÑAS HAY?

1	2	3	4	5	6	7	8
---	---	---	---	---	---	---	---

9	10	11	12	13	14	15	16
---	----	----	----	----	----	----	----

17	18	19	20	21	22	23	24
----	----	----	----	----	----	----	----



CONTAR, ¿CUÁNTOS NIÑOS Y NIÑAS HAY?


1	2	3	4	5	6	7	8
---	---	---	---	---	---	---	---

9	10	11	12	13	14	15	16
---	----	----	----	----	----	----	----









17	18	19	20	21	22	23	24
----	----	----	----	----	----	----	----









PARA MODIFICAR EN FUNCIÓN DE LAS CARACTERÍSTICAS DEL AULA









25							
----	--	--	--	--	--	--	--











CONTAR, ¿CUÁNTOS NIÑOS Y NIÑAS HAY?

1 	2 	3 	4 	5 	6 	7 	8 
--	--	--	--	--	--	--	--

9 	10 	11 	12 	13 	14 	15 	16 
--	---	---	---	---	---	---	---

17 	18 	19 	20 	21 	22 	23 	24 
--	--	--	--	--	--	--	--

PARA MODIFICAR EN FUNCIÓN DE LAS CARACTERÍSTICAS DEL AULA

25 	26 	27 	28 	29 	30 	31 	32 
---	---	---	---	---	---	---	---