

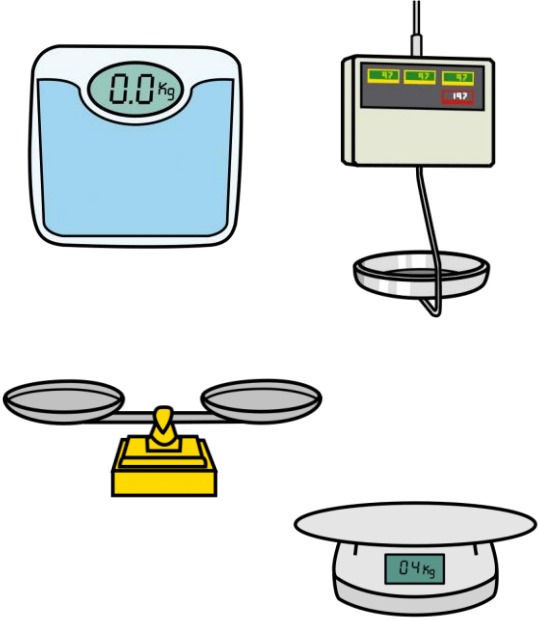


MEDIMOS

<p>LONGITUD</p> <p>Mide la distancia entre dos puntos</p>	<p>CAPACIDAD</p> <p>Mide la cantidad de líquido que cabe en un recipiente</p>	<p>MASA</p> <p>Mide lo que pesa un objeto, animal, persona, planta...</p>
<p>La longitud se mide en metros (m) y centímetros (cm)</p>	<p>La capacidad se mide en litros (l), $\frac{1}{2}$ litro y $\frac{1}{4}$ litro</p>	<p>La masa se mide en kilos (kg), $\frac{1}{2}$ kilo y $\frac{1}{4}$ kilo</p>
<p>Se mide con</p> 	<p>Se mide con</p> 	<p>Se mide con</p> 

Recorta, completa y pega en la columna que corresponda



LONGITUD

Mide la distancia
entre dos puntos

La longitud se mide en
metros (m) y centímetros (cm)

CAPACIDAD

Mide la cantidad de líquido que
cabe en un recipiente

La capacidad se mide en
litros (l), $\frac{1}{2}$ litro y $\frac{1}{4}$ litro

MASA

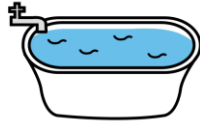
Mide lo que pesa un objeto,
animal, persona, planta...

La masa se mide en
kilos (kg), $\frac{1}{2}$ kilo y $\frac{1}{4}$ kilo

Recorta, completa y pega en la columna que corresponda



1 _____
DE LECHE




150 _____
DE AGUA




MIDE 15



MIDE 45



PESA 200



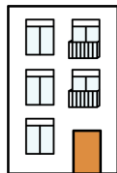
MIDE 1



PESA 1



1 _____
DE AGUA



MIDE 9



PESA 4

MEDIMOS LA LONGITUD DE OBJETOS DE LA CLASE

