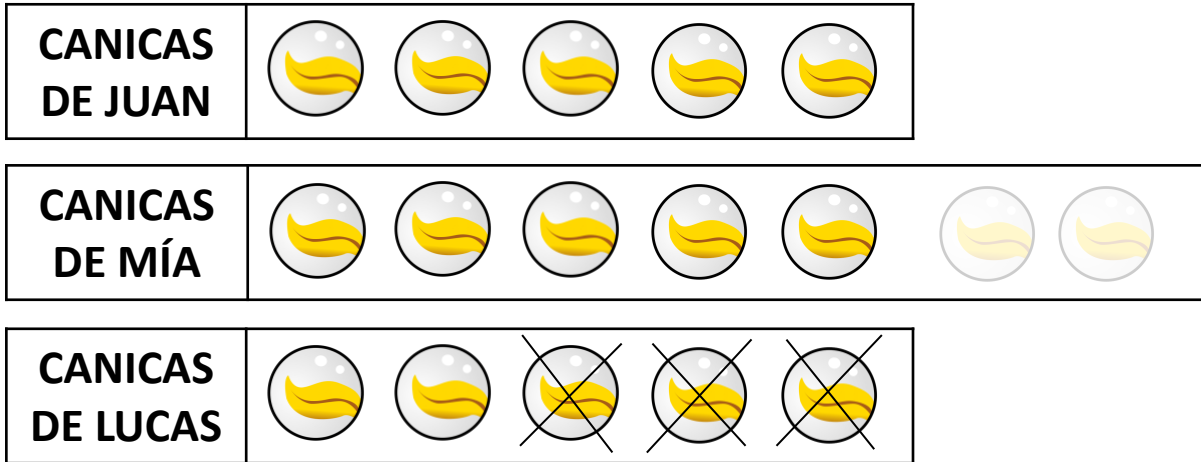


TENER MÁS-TENER MENOS



- Juan tiene 5 canicas. **Mía tiene 2 canicas más** que Juan. ¿Cuántas canicas tiene Mía?

$$\square \square \square = \square \quad \text{SOLUCIÓN: } \underline{\hspace{2cm}}$$

- Juan tiene 5 canicas. **Lucas tiene 3 canicas menos** que Juan. ¿Cuántas canicas tiene Lucas?

$$\square \square \square = \square \quad \text{SOLUCIÓN: } \underline{\hspace{2cm}}$$

TENER MÁS-TENER MENOS

Juan tiene 28 canicas. **Mía tiene 15 canicas más** que Juan. ¿Cuántas canicas tiene Mía?

SOLUCIÓN: _____

Mateo tiene 17 años. **Nuria tiene 11 años menos** que Mateo. ¿Cuántos años tiene Nuria?

SOLUCIÓN: _____

Noa tiene 19 años. **Rubén tiene 13 años menos** que Noa. ¿Cuántos años tiene Rubén?



SOLUCIÓN: _____

Paula tiene 45 cromos. **Carlos tiene 27 cromos más** que Paula. ¿Cuántos cromos tiene Carlos?

The diagram consists of a small square on the left and three stacked rectangles on the right. A horizontal line is positioned between the middle and bottom rectangles. The top rectangle is above the line, and the bottom rectangle is below the line.


SOLUCIÓN: _____

¿CUÁNTAS MÁS-CUÁNTAS MENOS?



Juan tiene 5 canicas y Mía tiene 7 canicas. **¿Cuántas canicas tiene Mía más que Juan?**

$$\square \square \square = \square \quad \text{SOLUCIÓN: } \underline{\hspace{2cm}}$$



Juan tiene 5 canicas y Lucas tiene 4 caninas. **¿Cuántas canicas tiene Lucas menos que Juan?**

$$\square \square \square = \square \quad \text{SOLUCIÓN: } \underline{\hspace{2cm}}$$

¿CUÁNTAS MÁS-CUÁNTAS MENOS?

PEONZAS
DE JUAN



PEONZAS
DE MÍA



Juan tiene 17 peonzas y Mía tiene 19 peonzas.

¿Cuántas peonzas tiene Mía más que Juan?

$$\square - \square = \square$$

SOLUCIÓN: _____

DIBUJA

PINTURAS
DE ANA

PINTURAS
DE ÁLVARO

Álvaro tiene 26 pinturas y Ana tiene 21 pinturas.

¿Cuántas pinturas tiene Álvaro más que Ana?

$$\square - \square = \square$$

SOLUCIÓN: _____

DIBUJA

GALLETAS
DE EMMA

GALLETAS
DE DAVID

David tiene 45 galletas y Emma tiene 42 galletas.

¿Cuántas galletas tiene Emma menos que David?

$$\square - \square = \square$$

SOLUCIÓN: _____

DIBUJA

COCHES
DE ALBA

COCHES
DE DIEGO

Diego tiene 38 coches y Alba tiene 33 coches.







¿Cuántos coches tiene Diego más que Alba?

$$\square - \square = \square$$

SOLUCIÓN: _____

RESUMIENDO...

RODEA LA OPERACIÓN CORRECTA

PROBLEMA DE “TENER MÁS” Juan tiene 5 canicas. Mía tiene 2 canicas más que Juan. ¿Cuántas canicas tiene Mía?	 
PROBLEMA DE “TENER MENOS” Juan tiene 5 canicas. Lucas tiene 3 canicas menos que Juan. ¿Cuántas canicas tiene Lucas?	 
PROBLEMA DE “¿CUÁNTOS TIENE MÁS QUE?” Juan tiene 5 canicas y Mía tiene 7 canicas. ¿Cuántas canicas tiene Mía más que Juan?	 
PROBLEMA DE “¿CUÁNTOS TIENE MENOS QUE?” Juan tiene 5 canicas y Lucas tiene 4 caninas. ¿Cuántas canicas tiene Lucas menos que Juan?	